

1. jméno autora výukového materiálu

Martin Hon

2. datum(období), ve kterém byl VM vytvořen

listopad 2011

3. ročník, pro který je VM určen

9.

Číslo klíčové aktivity:	EU OPVK – III/2
Název klíčové aktivity:	Inovace a zkvalitnění výuky prostřednictvím ICT
Vzdělávací oblast:	Člověk a společnost
Vzdělávací obor:	Dějepis
Tematická oblast:	Moderní doba
Téma:	Vznik ČSR
Pořadí práce:	7A

5 metodický list/anotace - výstižný popis způsobu použití výukového materiálu ve výuce

Vizuální podpora výkladové části hodiny .
Možnost využití při opakování - žáci doplňují odpovědi k otázkám, kladeným prezentací. Prezentace obsahuje i procvičovací aktivity.
Možnost využití k domácí přípravě žáků – elektronická učebnice. Žáci si mohou samostatně opakovat učivo s podporou aktivní prezentace. (předpokládá elektronickou komunikaci)
Části prezentace lze vyjmout a použít jako materiál pro tvorbu opakovacích testů.
Obrázky jsou většinou volným dílem nebo dílem autora prezentace. Lze je využít jako dodatek písemných záznamů z hodin. Je potřeba vyjmout je z prezentace a vložit do WORDU, vytisknout a připravit žákům.

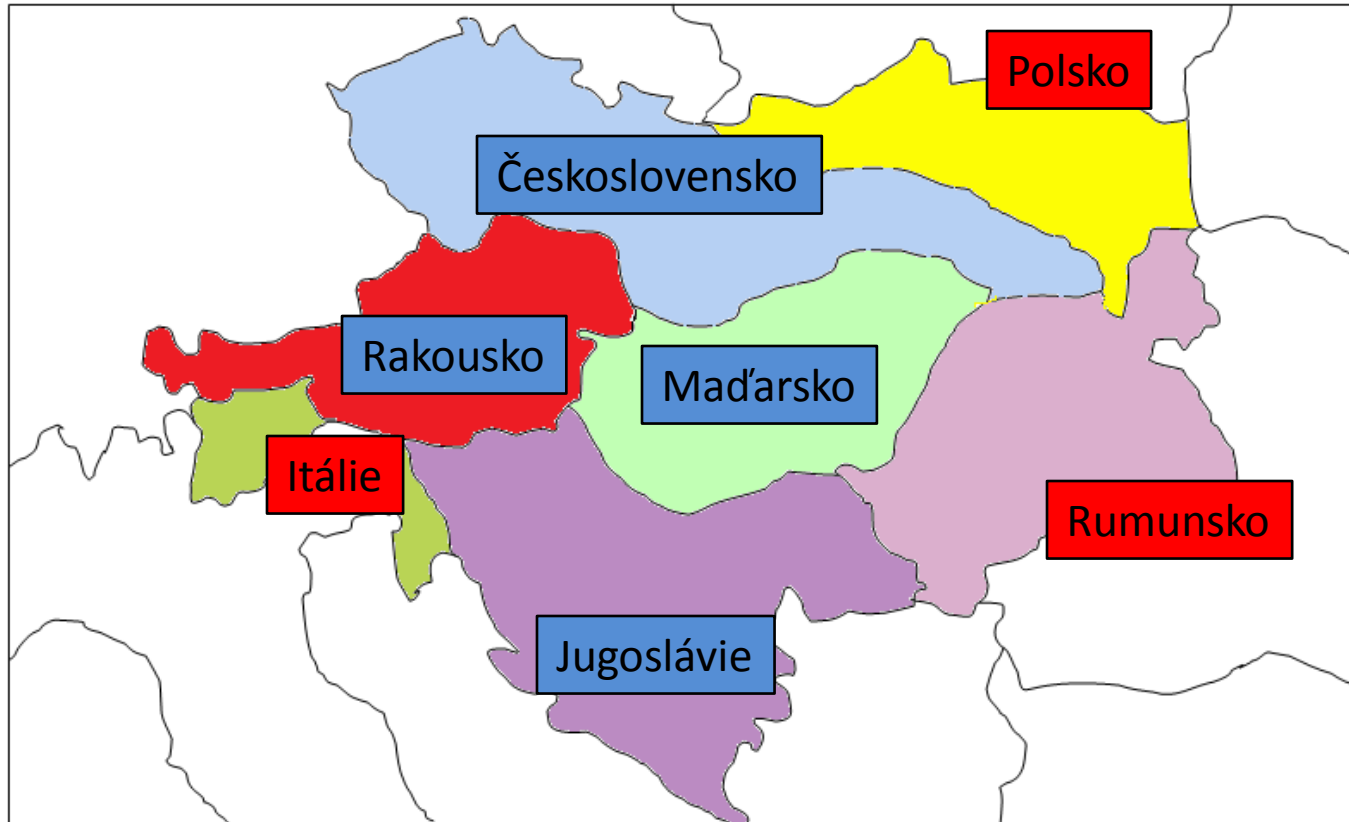
# Vznik ČSR

**Velká část Čechů již v průběhu války vyjadřovala svůj nesouhlas s R-U politikou a deklarovala (prohlašovala) svou touhu po samostatnosti.**

**Proti R-U na straně dohody bojovaly legie.**

# V říjnu 1918 se válkou vyčerpaná Rakousko-Uherská habsburská říše se hrouťí


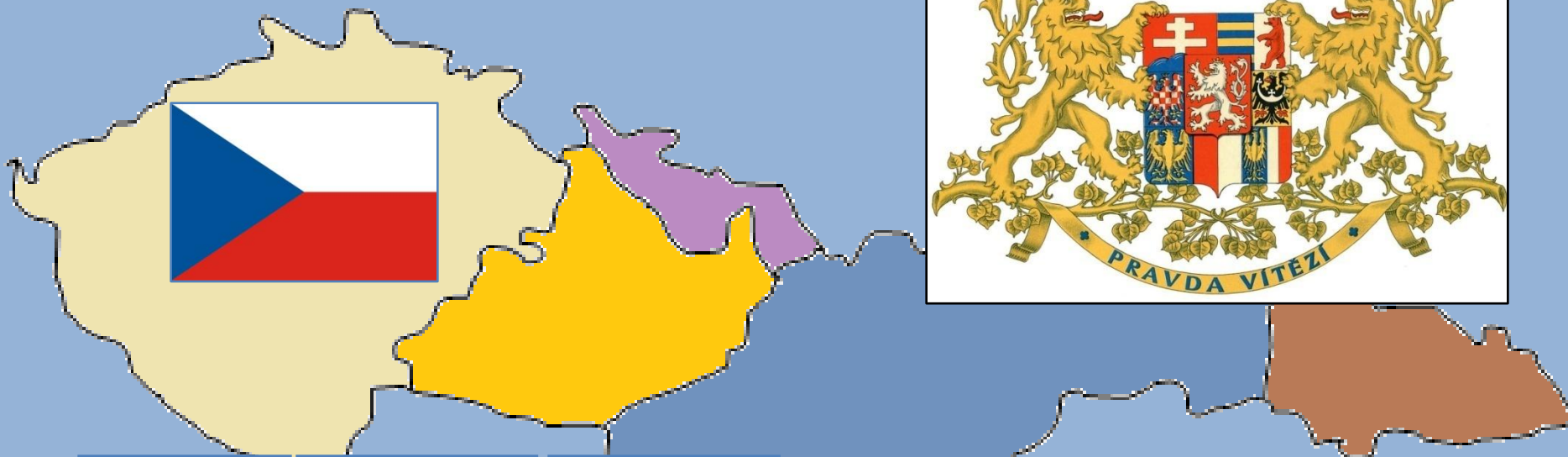
28. říjen- vyhlášena **Andrássyho nóta** (prohlášení R-U ministra zahraničí Julia Andrássyho) – přiznává národům R-U právo na sebeurčení.



Na půdorysu Rakouska-Uherska začínají vznikat **nástupnické státy**. Část R-U území připadá **vítězným státům**.

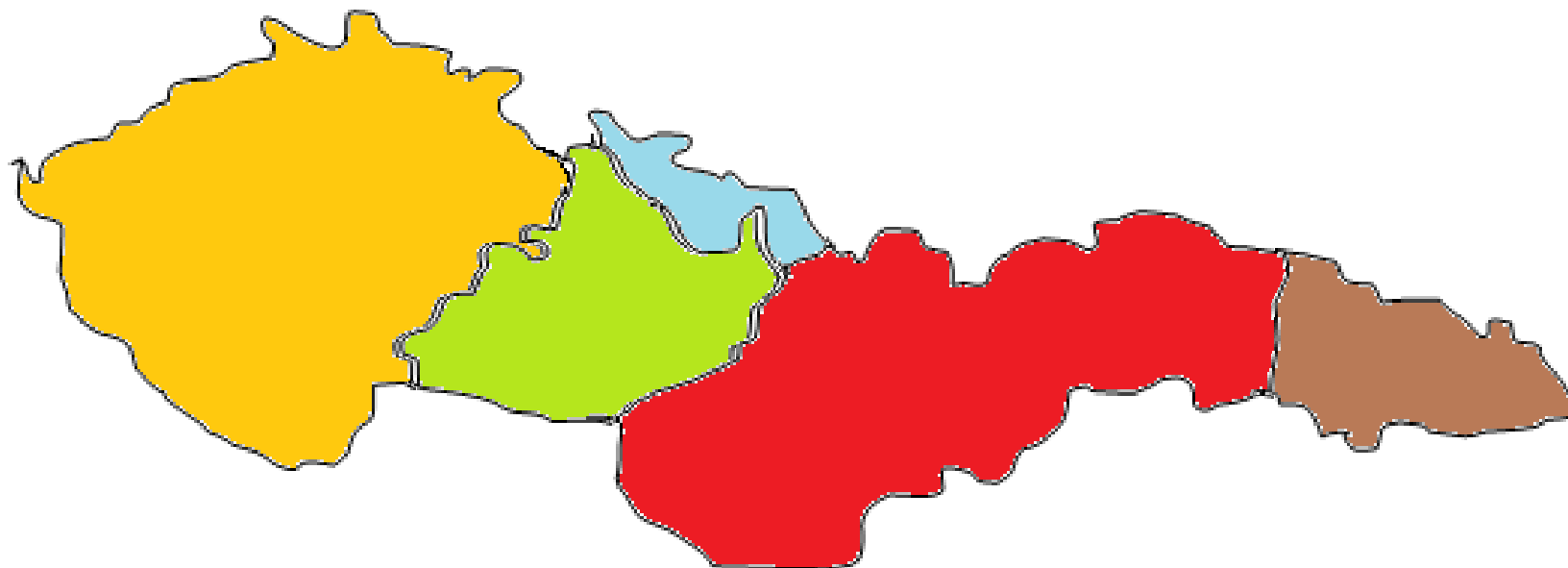
28. října v 18. hodin večer vzniká první zákon „o zřízení samostatného československého státu“

- Moc nad územím ČSR přebírá prozatímní vláda.



V prvních měsících vznikají také státní symboly nového státu.

Dokážete pojmenovat všechny části nově vzniklého státu?  
Zkuste to.



Podkarpatská  
Rus


Slezsko

Česko


Slovensko

Morava

# Významné osobnosti nového státu



**T. G. Masaryk**  
prezident, premiér a  
ministr financí



**Edvard Beneš**  
ministr zahraničí  
a vnitra



**Rastislav Štefánik**  
ministr války

Ve 20. letech, v době kdy se formuje nový československý stát, střídá na pozici vůdčí osobnosti SSSR Lenina nový výrazný politik 20. století. Kdo je tímto novým komunistickým diktátorem vám prozradí tajenka.



1. Kdo se stal 1.československým prezidentem?
2. Kdo byl v prozatímní vládě ministrem války?
3. Jaká část nově vzniklého Československa tvořila jeho nejvýchodnější část?
4. Jak se jmenoval stát, který vznikl po rozpadu R-U na balkánském poloostrově?
5. Jaký živočich převládal v nově vytvořeném československém znaku?
6. Co chtěli pro Čechy a Slováky získat vojáci bojující v legiích?

Zdroje použitého obrazového materiálu:

[http://cs.wikipedia.org/wiki/Tom%C3%A1%C5%A1\\_Garrigue\\_Masaryk](http://cs.wikipedia.org/wiki/Tom%C3%A1%C5%A1_Garrigue_Masaryk), 29.10. 2011

[http://cs.wikipedia.org/wiki/Edvard\\_Bene%C5%A1](http://cs.wikipedia.org/wiki/Edvard_Bene%C5%A1), 29.10. 2011

[http://cs.wikipedia.org/wiki/Milan\\_Rastislav\\_%C5%A0tef%C3%A1nik](http://cs.wikipedia.org/wiki/Milan_Rastislav_%C5%A0tef%C3%A1nik), 29.10. 2011

[http://www.3athlon.com/republique\\_tchecoslovaque/ZNAK\\_A\\_MAPY\\_PRVNI\\_CESKOSLOVENSKE\\_REPU\\_BLIKY.htm](http://www.3athlon.com/republique_tchecoslovaque/ZNAK_A_MAPY_PRVNI_CESKOSLOVENSKE_REPU_BLIKY.htm), 29.10. 2011